

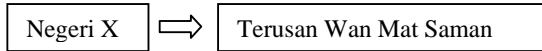
BAB 9

WARISAN KESULTANAN MELAYU

SOALAN BAB 9-TINGKATAN 1

<div style="display: flex; justify-content: space-around; align-items: center;"> <div style="border: 1px solid black; padding: 5px; width: 150px; text-align: center;">Terima kasih</div> <div style="border: 1px solid black; padding: 5px; width: 150px; text-align: center;">Ini adalah sebahagian hasil tanaman dari kawasan tanah Datuk.</div> </div> <p>1. Petikan dialog di atas menggambarkan sistem yang diamalkan dalam masyarakat Melayu tradisional. Apakah sistem tersebut?</p> <p>A Sistem serah C Sistem barter B Sistem kerah D Sistem cukai</p>	<div style="display: flex; justify-content: space-between;"> <div style="border: 1px solid black; padding: 5px; width: 200px;">Nampaknya hasil padi aku menjadi pada tahun ini. Aku nak menyampaikan sebahagian hasil aku kepada raja</div> <div style="border: 1px solid black; padding: 5px; width: 200px;">Bukan sahaja kamu yang patut berbuat demikian, aku pun hendak memberikan sebahagian hasil tanaman aku kepada raja.</div> </div> <p>6. Apakah sistem tersebut?</p> <p>A Sistem serah C Sistem Cukai Kepala B Sistem kerah D Sistem cukai labuh batu</p>						
<p>2. Kebanyakan kawasan pertanian di negeri-negeri Melayu tertumpu di kawasan sungai. Mengapakah sungai menjadi kawasan tumpuan pertanian?</p> <p>A Sungai meripakan kawasan perdagangan B Sungai kaya dengan sumber protein C Kesuburan tanah dan sumber airnya D Memudahkan pasaran pertanian</p>	<p>7. Pembesar di negeri-negeri Melayu diberi kuasa untuk memungut cukai. Apakah kepentingan hak tersebut kepada pembesar?</p> <p>A Melambangkan kekuasaan B Menambah sumber kekayaan C Menjana pendapatan keluarga D Menambah keyakinan dalam istana</p>						
<p>Rajah di bawah merujuk kepada peralatan pertanian tradisional yang digunakan dalam bidang pertanian.</p> <div style="display: flex; align-items: center; margin-top: 10px;"> <div style="border: 1px solid black; padding: 5px; margin-right: 10px;">bajak</div> <div style="border: 1px solid black; padding: 5px; margin-right: 10px;">tenggala</div> <div style="border: 1px solid black; padding: 5px; margin-right: 10px;">Kuku kambing</div> <div style="margin-left: 20px;">→</div> <div style="border: 1px solid black; padding: 5px; margin-left: 10px;">Tanaman X</div> </div> <p>3. Tanaman X ialah</p> <p>A getah C padi sawah B tembakau D kelapa sawit</p>	<p>Senarai di bawah menunjukkan empat peralatan tradisional yang wujud di negeri-negeri Melayu.</p> <div style="border: 1px solid black; padding: 10px; margin-top: 10px;"> <ul style="list-style-type: none"> • Bubu • Serkap • Tangguk </div> <p>8. Keempat-empat peralatan tradisional tersebut digunakan dalam bidang</p> <p>A pertanian C penternakan B perikanan D perlombongan</p>						
<p>Jadual di bawah merujuk kepada kegunaan peralatan untuk penanaman padi.</p> <p>4. X ialah</p> <table border="1" style="width: 100%; border-collapse: collapse; margin-top: 10px;"> <thead> <tr> <th style="padding: 5px;">peralatan</th> <th style="padding: 5px;">kegunaan</th> </tr> </thead> <tbody> <tr> <td style="padding: 5px;">Ketam padi</td> <td style="padding: 5px;">Menuai padi</td> </tr> <tr> <td style="padding: 5px;">Kuku kambing</td> <td style="padding: 5px; text-align: center;">X</td> </tr> </tbody> </table> <p>A mengorek lubang di tanah sawah B menyuburkan tanah sawah C membajak tanah sawah D menanam anak padi</p>	peralatan	kegunaan	Ketam padi	Menuai padi	Kuku kambing	X	<p>Senarai di bawah menunjukkan kawasan perlombongan yang muncul di negeri-negeri Melayu.</p> <div style="border: 1px solid black; padding: 10px; margin-top: 10px;"> <ul style="list-style-type: none"> • Sungai Klang • Lembah Kinta • Sungai Lingai </div> <p>9. Apakah jenis kegiatan perlombongan yang terlibat dalam kawasan-kawasan tersebut?</p> <p>A Perlombongan emas B Perlombongan bijih besi C Perlombongan arang batu D Perlombongan bijih timah</p>
peralatan	kegunaan						
Ketam padi	Menuai padi						
Kuku kambing	X						

Rajah di bawah menunjukkan kepentingan sebuah terusan dalam penanaman padi di sebuah negeri.



5. Negeri X ialah

- A Kelantan
- B Kedah
- C Perlis
- D Perak

10. Apakah yang dimaksudkan dengan **meramu** ?

- A cara barang didagangkan di pelabuhan
- B Kegiatan mengumpul hasil hutan untuk tujuan perdagangan
- C Kegiatan menganyam yang dijalankan untuk tujuan perdagangan.
- D hasil kesenian rakyat yang dijual beli oleh pedagang asing

11. Apakah yang dimaksudkan dengan **cukai labuh batu** ?

- A Cukai yang dikenakan kepada pedagang asing.
- B Cukai yang dikenakan di sepanjang sungai laluan dagang
- C Cukai yang melibatkan hasil pertanian di kawasan sungai
- D Cukai yang dikenakan di tempat-tempat tertentu di sepanjang sungai.

16. Denai Penartikan merupakan jalan sungai yang penting pada zaman dahulu. Apakah keistimewaan jalan tersebut kepada masyarakat Melayu tradisional?

- A Merupakan sungai utama di Kelantan
- B Menghubungkan Melaka dengan Pahang
- C mendekatkan hubungan antara Melaka dengan Singapura.
- D Merupakan jalan air yang utama untuk pergi ke Terengganu.

Senarai di bawah merujuk kepada pelabuhan di negeri-negeri Malayu.

- Pelabuhan Klang
- Pelabuhan Melaka
- Pelabuhan Kedah

12. Apakah peranan utama pelabuhan tersebut?

- A Pusat pengumpulan dan pengedaran barangan
- B Pusat dakwah dan penyebaran agama Islam
- C Pusat kebudayaan dan pengembaraan timur
- D Pusat kegiatan perikanan dan kelautan

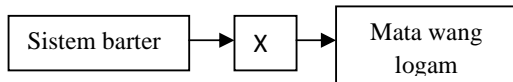
Senarai di bawah merujuk kepada penggunaan sistem ukuran untuk memudahkan urus niaga.

- Hasta

17. Apakah kegunaan sistem ukuran di atas?

- A Mengira kedudukan sesuatu benda
- B Mengelas sesuatu barangan yang bermutu
- C mengukur panjang dan pendek sesuatu benda
- D Mengukur jarak dekat atau jauh antara kampung

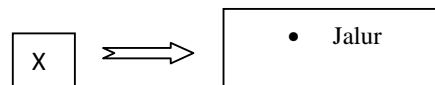
13. Rajah di bawah merujuk kepada perkembangan perdagangan di negeri-negeri Melayu sehingga melibatkan penggunaan mata wang logam.



X ialah

- A emas
- B tembikar
- C biji getah
- D kulit siput geweng

Rajah di bawah merujuk kepada kegiatan pengangkutan.



18. X ialah

- A Pengangkutan air
- B pengangkutan darat
- C pengangkutan udara
- D kemudahan pelabuhan

14. Jadual di bawah merujuk kepada penggunaan mata wang di negeri-negeri Melayu.

Mata wang	Negeri
Calains	Melaka
Mas dan Kupang	X

X ialah

- A Johor
- B Kedah
- C Kelantan
- D Terengganu

19. Masyarakat Melayu tradisional terkenal dengan kemahiran melombong bijih timah. Bagaimanakah cara mereka menjalankan aktiviti tersebut?

- I mendulang
- II Lombong siam
- III Lombong dedah
- IV pam kelikir

- A I dan II
- B II dan III
- C III dan IV
- D I dan IV

<p>Senarai di bawah menunjukkan mata wang yang digunakan di salah sebuah negeri Melayu.</p> <div style="border: 1px solid black; padding: 5px; margin: 10px 0;"> <ul style="list-style-type: none"> • Dinar • Kupang • Pohon nitis </div> <p>15.Negeri yang menggunakan mata wang di atas ialah</p> <p>A Terengganu C Kedah B Kelantan D Perak</p>	<p>20.Mengapakah masyarakat Melayu tradisional menggunakan jalan denai penarikan?</p> <p>A Boleh membawa pelbagai barang B Keadaan jalan lebih mudah dilalui C dapat menjimatkan kos dan tenaga D masa perjalanan dapat disingkatkan</p>
---	--

<table border="1" style="width: 100%; border-collapse: collapse;"> <thead> <tr> <th style="width: 50%;">Negeri</th> <th style="width: 50%;">Tarian</th> </tr> </thead> <tbody> <tr> <td>Pahang</td> <td>Joget</td> </tr> <tr> <td>Johor</td> <td>X</td> </tr> <tr> <td>Kedah</td> <td>canggung</td> </tr> </tbody> </table> <p>21.maklumat di atas menunjukkan warisan kesenian rakyat.X ialah</p> <p>I zapin II asyik III ulik mayang IV kuda kepang</p> <p>A I dan II C III dan IV B II dan III D I dan IV</p>	Negeri	Tarian	Pahang	Joget	Johor	X	Kedah	canggung	<p>26.Rajah di bawah menunjukkan peembahagian dalam golongan hamba.</p> <div style="text-align: center;"> <pre> graph LR A[Golongan hamba] --> B[Hamba raja] A --> C[Hamba berhutang] A --> D[X] </pre> </div> <p>X ialah</p> <p>A hamba merdeka B hamba sahaya C hamba asing D hamba biasa</p>
Negeri	Tarian								
Pahang	Joget								
Johor	X								
Kedah	canggung								
<p>22.Apakah tujuan adat menjunjung duli diadakan?</p> <p>A Tanda kesyukuran B Simbol kebesaran raja C tanda hormat terhadap raja D Sebagai pengiktirafan kepada raja</p>	<p>27.Pendidikan tidak formal dalam masyarakat Melayu tradisional diperolehi melalui</p> <p>A bacaan B soal jawab C tunjuk ajar D pengalaman</p>								
<p>23.Masyarakat Melayu tradisional terkenal dengan pelbagai budaya dan adat resam. Mengapakah budaya dan adat resam begitu penting kepada masyarakat Melayu?</p> <p>A merupakan amalan kehidupan B Menunjukkan kesejahteraan hidup C memaparkan kesopanan budi bahasa D Merupakan undang-undang masyarakat</p>	<p>28.</p> <div style="border: 1px solid black; padding: 5px; text-align: center; margin: 10px 0;"> Biar mati anak, jangan mati adat </div> <p>Berdasarkan pernyataan di atas ,apakah rumusan yang boleh dibuat tentang masyarakat Melayu?</p> <p>A Mengamalkan pelbagai adat B mementingkan adat C mempunyai adat resam yang unik D mempunyai banyak peribahasa yang berkaitan adat</p>								
<p>24.</p> <div style="border: 1px solid black; padding: 5px; margin: 10px 0;"> <ul style="list-style-type: none"> • Perkahwinan • Bercukur • Berkhatan </div>	<p>29 Rajah di bawah berkaitan dengan karya kesusasteraan.</p> <div style="display: flex; align-items: center; margin: 10px 0;"> <div style="border: 1px solid black; padding: 5px; margin-right: 10px;">X</div> <div style="font-size: 2em; margin-right: 10px;">⇒</div> <div style="border: 1px solid black; padding: 5px;"> <ul style="list-style-type: none"> • Hikayat Raja Muda • Hikayat Malim Demam • Hikayat Anggun </div> </div>								

<p>Maklumat di atas adalah berkaitan dengan</p> <p>A kesenian masyarakat Melayu B addat resam masyarakat Melayu C pantang larang masyarakat Melayu D kegiatan harian masyarakat Melayu</p>	<p>X ialah</p> <p>A karya jenaka C panglipur lara B cerita binatang D cerita dongeng</p>
<p>25.Senarai di bawah berkaitan dengan struktur masyarakat Melayu tradisional.</p> <div style="border: 1px solid black; padding: 5px; margin: 10px 0;"> <ul style="list-style-type: none"> • Penghibur raja • Pawing • Pemab </div> <p>Keempat-empat senarai di atas merujuk kepada</p> <p>A golongan kerabat raja B golongan merdeheka C golongan pembesar D golongan hamba</p>	<p>30.Maklumat di bawah merujuk kepada upacara yang dijalankan dalam perkhwinan masyarakat Melayu.</p> <div style="border: 1px solid black; padding: 5px; margin: 10px 0;"> <ul style="list-style-type: none"> • Dijalankan oleh jurunikah • Diadakan di rumah </div> <p>Apakah upacara yang dimaksudkan?</p> <p>A Merisik B Akad nikah C Bersanding D Meminang</p>