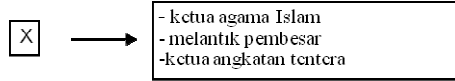


BAB 5

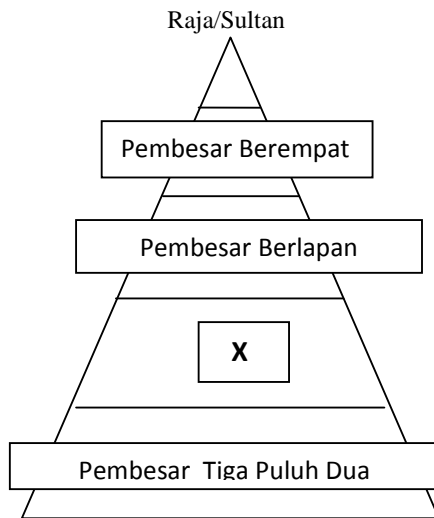
KEGEMILANGAN MELAKA

- 1 Rajah di bawah menunjukkan peranan seorang ketua



Siapakah X? (58)

- A Sultan
 B Bendahara
 C Laksamana
 D Pembesar Berempat
- 2 Apakah Sistem Pembesar Empat Lipatan? (58)
- A Struktur pentadbiran ekonomi Melaka
 B Struktur pentadbiran Kesultanan Melayu Melaka
 C Pentadbiran istana Sultan Melaka
 D Strategi pembangunan kerajaan Melaka
- 3 Rajah di bawah menunjukkan struktur pentadbiran kerajaan Melaka



X ialah (58)

- A Bendahara
 B Laksamana
 C Temenggung
 D Penghulu Bendahari
- 4 Maklumat di bawah merujuk kepada peranan Pembesar Berempat dalam kerajaan Melaka

Dalam sistem pentadbiran kerajaan Melaka, Sultan dibantu oleh Bendahara,

Penghulu Bendahari, X dan Laksamana.

X ialah (59)

- A Syahbandar
 B Temenggung
 C Hulubalang
 D Ketua Menteri

- 6 Apakah yang dimaksudkan dengan kawasan pemakanan? (60)

- I Dewan santapan diraja
 II Tempat larangan awam
 III Kawasan memungut cukai
 IV Tempat mempersembahkan ufti

- A I dan II
 B I dan IV
 C II dan III
 D III dan IV

- 7 Jadual di bawah menunjukkan pembesar Melaka dan kawasan pegangannya

	Pembesar Bendahara
	Laksamana Temasik
Temasik	

Kawasan pegangan X ialah (60)

- A Siak dan Kampar
 B Tiada kawasan pegangan
 C Sungai Raya dan Siantan
 D Sening Ujung dan Kampar

- 8 Jawatan ini diwujudkan oleh Parameswara ketika memerintah Temasik.

Jawatan yang dimaksudkan itu ialah (61)

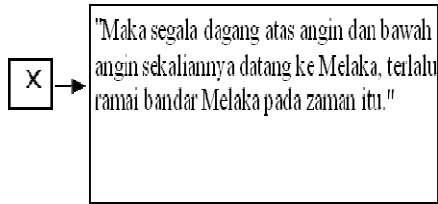
- A Laksamana
 B Hulubalang
 C Temenggung
 D Penghulu Bendahari

- 9 Maklumat di bawah menunjukkan keadaan yang sibuk di pelabuhan Melaka. "Maka segala dagang atas angin dan bawah angin sekaliannya datang ke Melaka;terlalu ramai bandar Melaka pada zaman itu." Apakah yang menyebabkan kewujudan keadaan tersebut? (61)

- A Surat kebenaran berniaga
 B Kedudukan yang strategik

- C Kecekapan sistem pentadbran
- D Sistem penggunaan mata wang

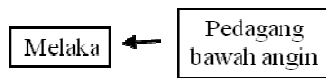
10 Maklumat di bawah berkaitan dengan kegemilangan Melaka dalam bidang perdagangan



Apakah X?(61)

- A Sejarah Pasai
- B Sejarah Melayu
- C Sejarah Malaysia
- D Hikayat Merong Mahawangsa

11 Rajah di bawah berkaitan dengan pedagang-pedagang yang datang ke Melaka. (61)



Apakah yang dapat dikaitkan dengan keadaan di atas?

- I Kemajuan perdagangan
- II Kedudukan Melaka yang strategik
- III Cara penyebaran Islam ke Melaka
- IV Kemudahan pelabuhan yang banyak

- A I dan II
- B I dan IV
- C II dan III
- D III dan IV

12 Selat di bawah menjadi laluan kapal dagang antara Timur dan Barat

Mengapakah kapal dagang sering menggunakan laluan tersebut? (61)

- I Mengelak daripada ancaman lanun
- II Berhampiran dengan kawasan air bersih
- III Terlindung daripada tiupan angin monsun
- IV Mudah mendapat panduan menuju ke Melaka

- A I dan II

- B I dan IV
- C II dan III
- D III dan IV

13 Apakah keistimewaan pelabuhan Melaka yang memudahkan kapal-kapal berlabuh? (62)

- A Muara sungai yang sempit
- B Muara sungai yang dalam
- C Kedudukan yang senang dikenali
- D Layanan mesra daripada masyarakat

14 Maklumat di bawah menunjukkan keadaan geografi

Melaka

Bentuk muka bumi Melaka berbukit bukau

Apakah kepentingan bentuk muka bumi tersebut kepada kapal dagang? (62)

- A Bekalan hasil hutan yang banyak
- B Menyediaakn kawasan air bersih
- C Bekalan kayu bakau kepada pedagang
- D Panduan kepada pedagang untuk berlayar

15 Maklumat di bawah berkaitan dengan keistimewaan kedudukan pelabuhan Melaka

- Pulau Sumatera
- Banjaran Titiwangsa

Apakah keistimewaan pulau dan banjaran tersebut? (62)

Menyediakan bekalan air bersih
Menghalang tiupan angin monsun
Memudahkan kapal dagang berlabuh
Mengukuhkan strategi pertahanan Melaka

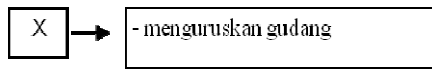
- A I dan II
- B I dan IV
- C II dan III
- D III dan IV

16 Apakah kepentingan kedudukan di pertengahan laluan perdagangan Timur dan Barat kepada Melaka (61/62)

- I Memudahkan pengawalan Selat Melaka
- II Menguasai perdagangan di Selat Melaka
- III Menjadi tumpuan negara penjajah Barat

- IV Menimbulkan persaingan pelabuhan berdekatan
- A I dan II
- B I dan IV
- C II dan III
- D III dan IV

- 17 Senarai di bawah menunjukkan tugas pembesar dalam pentadbiran kerajaan Melaka.



X ialah (63)

- A Bendahara
- B Laksamana
- C Syahbandar
- D Temenggung
- 18 Apakah peranan Orang Laut di perairan Selat Melaka? (64)
- A Mengurus perairan Selat Melaka
- B Membanteras kegiatan penjenayah
- C Membantu kebajikan kapal pedagang
- D Mengawal keselamatan Selat Melaka
- 19 Maklumat di bawah berkaitan dengan undang-undang pentadbiran perdagangan Melaka.

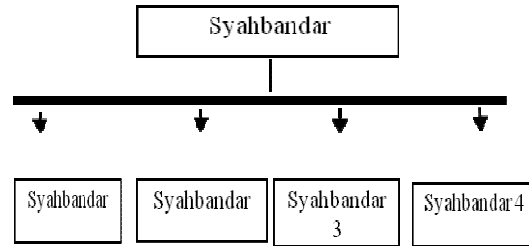
- terdapat 24 fasal
- tanggungjawab nakhoda

Maklumat di atas dapat dikaitkan dengan (64)

- A Hukum Kanun Melaka
- B Undang Pelabuhan Melaka
- C Undang-undang
- D Undang-undang
- 20 *Hukum Kanun Melaka dan Undang-undang Laut Melaka* digubal bagi melancarkan sistem pentadbiran perdagangan Melaka. Apakah kesan utama pelaksanaan kedua-dua undang-undang ini kepada pedagang asing? (64)
- A Pedagang asing lebih yakin untuk berdagang di pelabuhan Melaka
- B Pedagang asing dapat menjalankan urusaniaga tanpa surat kebenaran
- C Pedagang asing dapat membeli barang yang lebih murah
- D Pedagang asing dapat dikecualikan

daripada cukai.

- 21 Rajah di bawah menunjukkan pembahagian tugas syahbandar di Melaka.



Apakah kepentingan pembahagian tugas tersebut

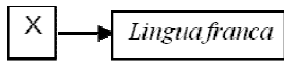
- A Mengelakkan ancaman lanun
- B Memudahkan urusan di pelabuhan
- C Menjaga kebajikan para pedagang
- D Melindungi kepentingan peniaga tempatan
- 27 Mengapakah Melaka diisytiharkan sebagai pelabuhan entrepot? (67)
- A Menjadi tarikan pedagang asing
- B Terletak di tempat yang strategik
- C Mempunyai kemudahan pelabuhan lengkap
- D Tempat pengumpulan dan pengedaran barangan
- 28 Maklumat di bawah menunjukkan penggunaan mata wang di Melaka?

Penggunaan mata wang emas, perak, dan timah yang dibawa dari Pedir, Pasai, dan Gujerat juga boleh digunakan dalam perdagangan di Melaka.

Apakah kesan daripada penerimaan penggunaan mata wang tersebut? (67)

- A Menggalakkan pertukaran mata wang
- B Menonjolkan kebijaksanaan Sultan Melaka
- C Menggalakkan pedagang untuk berdagang di Melaka
- D Menjadikan Melaka pusat pertukaran mata wang
- 29 Apakah yang dimaksudkan dengan *lingua franca*? (68)
- A Bahasa asing
- B Bahasa kiasan
- C Bahasa dunia
- D Bahasa perantaraan

- 30 Rajah di bawah menunjukkan penggunaan bahasa dalam memudahkan urusan perdagangan di Melaka.



Apakah X? (68)

- A Bahasa Jawa
- B Bahasa Arab
- C Bahasa Melayu
- D Bahasa Inggeris

- 31 Rajah di bawah menunjukkan perkahwinan antara Sultan Melaka dengan puteri Pasai.



Apakah kesan daripada perkahwinan tersebut?(69)

- I Perkembangan agama Islam
- II Menamatkan huru-hara di Pasai
- III Memperkembang bahasa Melayu
- IV Menggalakkan perkahwinan antara negara

- A I dan II
- B I dan IV
- C II dan III
- D III dan IV

- 32 Maklumat di bawah berkaitan dengan hubungan serantau antara Melaka dengan Pasai.

Kedua-dua kerajaan menggunakan istilah salam dalam surat - menyurat

Maklumat di atas menunjukkan (69)

- A Kerjasama perdagangan yang semakin pesat
- B Kejayaan Melaka menamatkan huru-hara
- C Kedudukan kedua-dua kerajaan yang setaraf
- D Kedua-dua kerajaan mengiktiraf kedaulatan masing-masing

- 33 Dialog di bawah menunjukkan wujudnya

hubungan yang baik antara kerajaan Melaka dengan Pasai.

Sultan Melaka :	Memandangkan Pasai telah menghantar utusan meminta bantuan untuk mengalahkan musuh, maka kita hendaklah menghantar bantuan segera.
Pembesar :	Menjunjung perintah Tuanku.

Berdasarkan dialog di atas, apakah bentuk hubungan antara Melaka dengan Pasai?

- A Ketuanan
- B Naungan
- C Taklukan
- D Setaraf

- 34 Apakah tujuan Melaka menakluki Kampar dan Siak? (70)

- A Membalas dendam
- B Menguasai hasil perdagangan
- C Menghapuskan ancaman lanun
- D Menjamin keselamatan Selat Melaka

- 35 Apakah kesan daripada penaklukan Melaka ke atas Kampar dan Siak? (70)

- I Perdagangan di Kampar dan Siak terjejas
- II Melaka menguasai hasil perdagangan di negeri-negeri tersebut
- III Kampar dan Siak diwajibkan menghantar ufti ke Melaka
- IV Pedagang asing disekat berdagang di Kampar dan Siak.

- A I dan II
- B I dan IV
- C II dan III
- D III dan IV

- 36 Maklumat di bawah menunjukkan dua buah negeri yang berjaya ditakluki oleh Melaka.

- Siak
- Kampar

Apakah bukti yang menunjukkan Melaka mempunyai kedudukan lebih tinggi berbanding kedua-dua negeri tersebut? (70)

- I Penghantaran ufti kepada Melaka

- II Istilah salam dalam urusan surat-menyerurat
- III Melaka berjaya menamatkan pemberontakan di kedua-dua negeri tersebut
- IV Istilah sembah digunakan dalam urusan surat-menyerurat
- A I dan II
- B I dan IV
- C II dan III
- D III dan IV

37

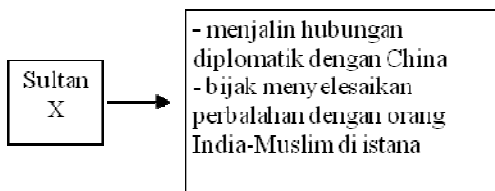
Pernyataan di bawah mungkin berlaku semasa Sultan Mansor Shah melawat Majapahit.

Sultan: Semasa melawat Majapahit,
beta diiringi oleh raja dari

Pernyataan di atas membuktikan (70)

- A Kebesaran kerajaan Melaka
 - B Kehebatan kerajaan Majapahit
 - C Kedudukan istimewa ekonomi Melaka
 - D Sultan Melaka mempunyai darjat tinggi
- 38 Apakah barang dagangan yang dibekalkan oleh kerajaan Siak? (70)
- A Emas
 - B Perak
 - C Damar
 - D Bahan makanan

39 Rajah di bawah menunjukkan kebijaksanaan seorang pemimpin.



Sultan X ialah (72)

- A Sultan Mansor Shah
 - B Sultan Muzaffar Shah
 - C Sultan Megat Iskandar Shah
 - D Sultan Alauddin Riayat Shah
- 40 Rajah di bawah menunjukkan penemuan batu nisan dan batu bersurat di Semenanjung Tanah Melayu.

- Batu nisan di Tanjung Ingggris
- Batu bersurat di Kuala Berang

Penemuan bahan tersebut membuktikan (72)

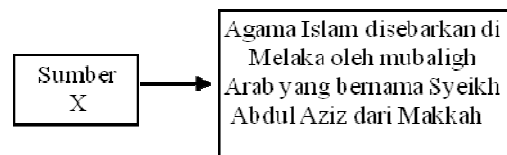
- A Pertapakan awal Islam di Tanah Melayu
- B Permulaan kerajaan awal di Tanah Melayu
- C Perkuburan ulama terkenal di Tanah Melayu
- D Persinggahan kapal dagang oleh pedagang Arab di Tanah Melayu

41 Rajah di bawah menunjukkan hubungan perdagangan yang terjalin melalui kegiatan perdagangan.



Apakah kesan daripada perhubungan tersebut? (72)

- Penyebaran agama Islam
 - Kemajuan perdagangan
 - Kerjasama keselamatan
 - Mengurangkan ancaman lanun
- A I dan II
 - B I dan IV
 - C II dan III
 - D III dan IV
- 42 Rajah di bawah berkaitan dengan bukti kedatangan agama Islam ke Melaka.



Sumber X ialah (73)

- Suma Oriental*
 - Sejarah Melayu*
 - Bustanus Salatin*
 - Hikayat Raja-Raja Pasai*
- A I dan II
 - B I dan IV
 - C II dan III
 - D III dan IV

43 Senarai pedagang di bawah menunjukkan peranan mereka dalam penyebaran agama Islam ke Melaka.

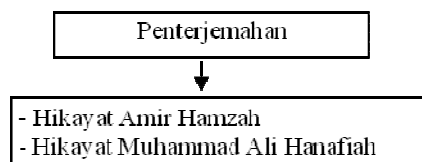
- Pedagang Islam dari Arab
- Pedagang Islam dari India

Bagaimanakah mereka menyebarkan agama Islam ke Melaka? (73)

Membawa bersama kitab-kitab agama
Menjalankan kegiatan dakwah
Berkahwin dengan penduduk tempatan
Memberi sumbangan kepada masyarakat setempat

- A I dan II
- B I dan IV
- C II dan III
- D III dan IV

- 44 Rajah di bawah menunjukkan kegiatan penterjemahan semasa kegemilangan Kesultanan Melayu Melaka.



Siapakah yang menggalakkan aktiviti penterjemahan tersebut? (74)

- A Pihak istana
- B Pedagang asing
- C Para pendakwah
- D Golongan pembesar

- 45 Apakah asas sistem pendidikan di Melaka? (77)

- A Tulisan jawi
- B Bahasa Arab
- C Pengajian Al-Quran
- D Undang-undang Fikah

- 46 Apakah peranan masjid pada zaman Kesultanan Melayu Melaka? (77)

- A Pusat pengajian Islam
- B Tanah perkuburan Islam
- C Pusat perdagangan Islam
- D Tempat perkahwinan orang Islam

- 47 Rajah di bawah menunjukkan peranan istana kepada perkembangan ilmu pengetahuan semasa zaman Kesultanan Melayu Melaka.

Istana Melaka

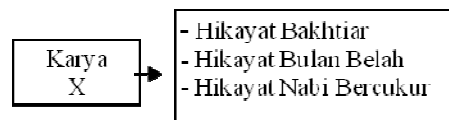
- Ulama
- Jurutulis
- Pengarang

Apakah kesan daripada peranan pihak istana tersebut? (79)

- I Lebih banyak perpustakaan dibina di Melaka
- II Menambah sumber pendapatan istana
- III Menggalakkan kegiatan penterjemahan
- IV Karya undang-undang telah digubal

- A I dan II
- B I dan IV
- C II dan III
- D III dan IV

- 48 Karya di bawah menunjukkan jenis karya sastera di Melaka



Apakah karya X? (79)

- A Sastera lama
- B Sastera saduran
- C Sastera terjemahan
- D Sastera undang-undang

- 49 Kitab di bawah merupakan sumber kepada perbincangan dan perbahasan tentang hal agama Islam.

Darul Manzum

Apakah aspek yang sering diperkatakan dalam kitab tersebut? (80)

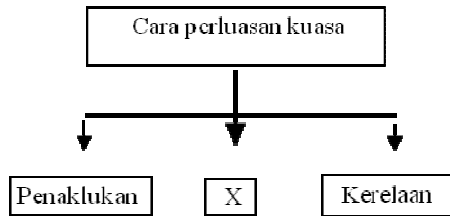
- A Ketuhanan
- B Perdagangan
- C Kerajaan Islam
- D Undang-undang

- 50 Apakah peranan Bahasa Melayu di Melaka? (81)

- I Bahasa khusus dalam golongan istana

- II Bahasa persuratan dalam kerajaan Melaka
 - III Bahasa perantaraan dalam kerajaan Melaka
 - IV Bahasa dalam kalangan golongan ulama
- A I dan II
 - B I dan IV
 - C II dan III
 - D III dan IV

51 Rajah di bawah menunjukkan cara-cara perluasan kuasa kerajaan Melaka.



Apakah X? (82)

- A Dakwah
 - B Perkahwinan
 - C Perdagangan
 - D Kebijaksanaan
- 52 Maklumat di bawah menunjukkan bantuan yang diberikan oleh Melaka kepada Pasai.

Kerajaan Melaka pernah membantu raja Pasai daripada digulingkan daripada takhta dan membantu Pasai mengalahkan kerajaan Aru yang mengancam Pasai.

Apakah kesan daripada bantuan yang diberikan oleh Melaka? (82)

- A Pasai mengakui kekuasaan Melaka
 - B Melaka campur tangan dalam negeri Pasai
 - C Pasai tidak setaraf dengan kekuasaan Melaka
 - D Melaka memperoleh sejumlah wang yang lumayan
- 53 Dialog di bawah mungkin berlaku antara Laksamana dengan Sultan Melaka selepas tahun 1430

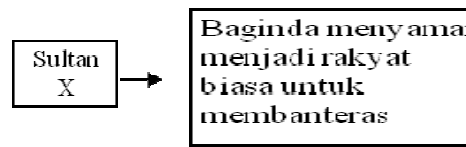
Laksamana: Tuanku, Maharaja China tidak lagi berminat untuk memberi perhatian kepada negara luar.

Sultan Melaka: Beta faham. Namun kini, kita sudah

Mengapakah Sultan Melaka mempunyai keyakinan tersebut? (82)

- A Kesetiaan rakyat
- B Muafakat rakyat
- C Kewibawaan pemimpin
- D Mempunyai kelengkapan senjata

54 Rajah di bawah menunjukkan sikap Sultan Melaka yang mengambil berat tentang keamanan dan keselamatan negeri Melaka.



Sultan X ialah (83)

- A Sultan Muhammad
 - B Sultan Ahmad Shah
 - C Sultan Muzaffar Shah
 - D Sultan Alauddin Riayat Shah
- 55 Jadual di bawah menunjukkan tindakan Tun Perak untuk menghadapi serangan Siam pada tahun 1946.

Tokoh	Tindakan
Tun Perak	Mengarahkan tenteranya mengikat jamung di pokok bakau

Mengapakah tindakan tersebut diambil? (83)

- Mengelirukan tentera musuh
- Menyenangkan usaha mengesan musuh
- Mudah berselindung dari serangan musuh
- Membuktikan bilangan tentera ramai

- A I dan II
- B I dan IV
- C II dan III
- D III dan IV

56 Jadual di bawah menunjukkan rindakan yang

diambil oleh Tun Perak semasa menghadapi serangan Siam.

Tokoh	Tindakan
Tun Perak	Mengarahkan pengikutnya membawa keluarga masing-masing berpindah ke Melaka bagi menghadapi serangan Siam

Mengapakah beliau mengambil tindakan tersebut? (83)

- A Muslihat terhadap musuh
- B Membuktikan perpaduan rakyat
- C Merapatkan ikatan kekeluargaan
- D Menaikkan semangat pengikutnya

57 Apakah aspek yang membantu kejayaan Tun Perak menghalang serangan Siam pada tahun 1456? (83)

- A Bantuan negeri naungan
- B Kekuatan pertahanan
- C Strategi peperangan
- D Kelengkapan senjata

58 Sultan Alauddin Riayat Shah meronda pada waktu malam untuk memastikan keamanan di Melaka.
Apakah ungkapan yang sesuai bagi menggambarkan tindakan baginda? (83)

- A Amanah asas kejayaan
- B Ikhlas membawa berkat
- C Rajin tangga kesederhanaan
- D Kepimpinan melalui teladan

59 Maklumat di bawah menunjukkan peristiwa yang berkaitan dengan Bendahara Tun Perak.

Anak Bendahara Tun Perak telah dibunuh oleh putera Sultan Mansor Shah, iaitu Raja Muhammad.

Apakah langkah yang dilakukan oleh Bendahara Tun Perak berhubung dengan peristiwa tersebut? (84)

- A Menimbulkan rasa tidak puas hati terhadap sultan
- B Mendesak pengikut-pengikutnya berpaling tadah
- C Perbuatan anak sultan mestilah diadili sewajarnya
- D Meminta Raja Muhammad tidak dilantik sebagai sultan

60 Pernyataan di bawah menunjukkan permintaan Bendahara Tun Perak kepada Sultan Mansor Shah.

"Adat hamba Melayu tidak pernah derhaka, tetapi akan kita bertuankan seorang ini, janganlah."

Mengapakah beliau mengemukakan permintaan tersebut? (84)

- A Serangan Siam ke atas Melaka
- B Memuliakan kekuasaan Sutan Melaka
- C Mengekalkan kesetiaan rakyat Melaka
- D Mengelakkan campur tangan rakyat Melaka