

BAB 4
KERJASAMA ANTARA KAUM KE ARAH
KEMERDEKAAN

- 1 Maklumat berikut merujuk kepada jawatankuasa yang ditubuhkan oleh pihak British pada tahun 1949. (121)

Jawatankuasa Hubungan antara Kaum.

Apakah tugas penubuhan jawatankuasa tersebut?

- A Memupuk kerjasama antara kaum.
- B Mendapatkan kemerdekaan Tanah Melayu
- C Membantu pertumbuhan ekonomi Tanah Melayu
- D Memberi latihan pentadbiran kepada penduduk tempatan.

- 2 Dailog berikut mungkin berlaku antara dua orang pegawai British di Tanah Melayu pada tahun 1949. (121)
Pegawai A: Kita telah tetapkan syarat kerjasama kaum jika Tanah Melayu ingin merdeka.

Pegawai B: Perkara ini pasti menguntungkan kita
Apakah musihat British dalam menetapkan syarat tersebut?

- A Melahirkan perpaduan kaum
- B Menanamkan semangat kesetiaan
- C Melindungi kepentingan ekonomi
- D Melambatkan kemerdekaan negara

- 3 Jadual berikut merujuk kepada anggota Jawatankuasa Hubungan antara Kaum (121)

Jawatan	Tokoh
Penasihat	Sir Malcom MacDonald
Pengerusi	X

X ialah

- A Tun H.S. Lee
- B K.L. Devaser
- C E.E.C. Thuraisingam
- D Dato' Onn bin Ja'afar

- 4 Maklumat beikut berkaitan dengan Jawatankuasa Hubungan antara Kaum.

Kompromi UMNO - CLC

Apakah antara perkara yang dipersetujui dalam kompromi tersebut?(122)

- I Bantuan ekonomi kepada orang Melayu
 - II Pilihan raya diadakan pada masa yang sesuai.
 - III Kelonggaran syarat kerakyatan Persekutuan
 - IV Penggunaan bahasa Melayu sebagai bahasa penghantar
- A I dan II
 - B I dan IV
 - C II dan III
 - D III dan IV

- 5 UMNO telah menghantar satu memorandum kepada Jawatankuasa antara Kaum (CLC) tetapi ditolak. Apakah kandungan memorandum tersebut?(122)

- A Memajukan ekonomi
- B Mendapatkan kemerdekaan
- C Menentang kemasukan imigran
- D Mempertahankan ketuanan Melayu

- 6 Apakah tujuan perhimpunan tersebut diadakan? (123)

- * Konferensi Nasional
- * Konvensi Nasional

- I Mengagihkan ekonomi
- II Menentukan kawasan petempatan
- III Merealisasikan perpaduan kaum
- IV Membincangkan kepentingan pilihan raya

- A I dan II

- B I dan IV
- C II dan III
- D III dan IV

- B MIC
- C PAS
- D IMP

7 Senarai berikut merupakan parti politik.
 * Parti Negara
 * Independence of Malaya Party (IMP).
 Apakah matlamat parti politik tersebut?
 (124)

- A Mengadakan pilihan raya
- B Memupuk perpaduan kaum
- C Membasmi kegiatan komunis
- D Melincinkan jentera pentadbiran

8 Pilih pernyataan yang berkaitan dengan parti MIC.(124)
 I Ditubuhkan pada tahun 1946
 II Tokoh utamanya ialah E.E.C. Thuraisingam
 III Pernah bergabung dengan Parti Negara
 IV Memperjuangkan kepentingan kaum India

- A I dan II
- B I dan IV
- C II dan III
- D III dan IV

9 Jadual dibawah menerangkan ciri sebuah parti politik di Tanah Melayu.
 (124)

Tahun penubuhan	Perjuangan
1949	* Menyokong perjuangan Dato' Onn Ja'afar tentang kerjasama kaum dalam sebuah parti. * Menyokong Tunku Abdul Rahman menubuhkan Parti Perikatan.

Parti politik yang mempunyai ciri tersebut ialah
 A MCA

10 Maklumat berikut merujuk kepada pemimpin-pemimpin Melayu dan tujuan parti masing-masing.(125)

Dato' Onn bin Ja'afar	Kepentingan kerjasama pelbagai kaum dalam sebuah parti.
Tunku Abdul Rahman	X

X ialah

- A Mengasaskan Sistem Ahli
- B Menubuhkan Jawatankuasa Hubungan antara Kaum
- C Membuka keahlian parti kepada semua orang Islam tanpa mengira kaum
- D Mewujudkan kerjasama pelbagai kaum dalam sebuah gabungan parti politik.

11 Pernyataan berikut merujuk kepada sistem persekolahan sebelum merdeka.

Sebelum merdeka terdapat lima jenis sistem sekolah, iaitu sekolah agama Islam, sekolah vernakular Melayu, Cina, Tamil dan aliran Inggeris.

Apakah kesan sistem pendidikan tersebut kepada penduduk di Tanah Melayu? (126)

- A Keperluan guru meningkat
- B Kos pendidikan meningkat
- C Peluang pekerjaan bertambah
- D Perpaduan kaum sukar dicapai.

12 Maklumat berikut merujuk kepada salah sebuah sekolah Inggeris.

Sultan Abu Bakar, Muar, Johor

Apakah sebab sekolah tersebut dipandang tinggi oleh masyarakat? (127)

- I Penggunaan bahasa Inggeris
- II Peluang mendapat jawatan tinggi
- III Penguasaan oleh kaum asing sahaja
- IV Pengelolaan oleh golongan mubaligh

- A I dan II
- B I dan IV
- C II dan III
- D III dan IV

13 Antara yang berikut, yang manakah ciri-ciri sekolah Tamil sebelum merdeka? (127)

- I Ditubuhkan oleh pihak estef
- II Kurang mendapat sambutan
- III Pengajian hanya di peringkat sekolah rendah dan menengah
- IV Berpeluang mendapat pekerjaan bergaji lumayan.

- A I dan II
- B I dan IV
- C II dan III
- D III dan IV

14 Senarai berikut berkaitan dengan penubuhan sekolah Cina.

- * Ditubuhkan oleh pihak persendirian dan parti-parti politik
- * Mendapat sokongan penuh masyarakat Cina.
- * Berkembang pesat di seluruh Tanah Melayu.

Apakah tujuan penubuhan sekolah Cina tersebut? (128)

- A Mengekalkan identiti kecinaan.
- B Membantu murid melanjutkan pelajaran ke luar negara.
- C Memberi peluang untuk mendapat pekerjaan bergaji lumayan.

D Membekalkan keperluan tenaga pekerja rendah di sektor swasta.

15 Apakah persamaan antara sekolah vernakular tersebut?

- * Sekolah Cina
 - * Sekolah Tamil
- (127&128)

- A Merupakan institusi ilmu yang tinggi.
- B Mendapat sokongan penuh masyarakat
- C Menggunakan tenaga pengajar dari negara asal.
- D Menggunakan sukatan pelajaran bercorak tempatan.

16 Maklumat berikut menunjukkan antara cadangan laporan pelajaran X.

Laporan pelajaran X
* Mewajibkan pendidikan sekolah rendah.
* Menggunakan bahasa Melayu dan Bahasa Inggeris sebagai bahasa pengantar di sekolah rendah
* Menggunakan bahasa Inggeris sebagai bahasa pengantar di sekolah menengah.

Apakah laporan pelajaran X? (129)

- A Laporan Barnes.
- B Laporan Razak
- C Laporan Fenn-Wu
- D Ordinan Pelajaran 1952.

17 Apakah matlamat laporan pelajaran berikut.(129)

Tahun	Laporan pelajaran
1951	Laporan Barnes
1952	Ordinan Pelajaran 1952

- A Melahirkan golongan intelektual
- B Membentuk semangat perpaduan
- C Memenuhi keperluan tenaga kerja

- D Membawa negara ke arah kemajuan
- 18 Maklumat berikut merujuk kepada sebuah laporan pelajaran.

* Laporan Fenn-Wu 1951.
Apakah tuntutan laporan pelajaran tersebut?
(129)

- A Pendidikan sekolah rendah diwajibkan.
- B Pembinaan sistem pendidikan kebangsaan
- C Penggunaan bahasa Inggeris di sekolah rendah.
- D Penggunaan bahasa Mandarin sebagai bahasa pengantar di sekolah Cina.
- 19 Maklumat berikut menunjukkan salah satu cadangan Laporan Razak.

Mengadakan sistem sekolah umum.

Apakah bahasa pengantar yang digunakan di sekolah tersebut?
(129)

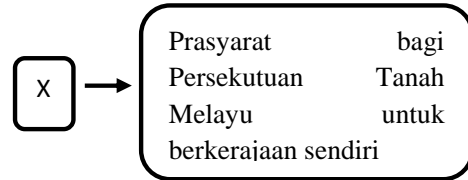
- A Bahasa Cina
- B Bahasa Tamil
- C Bahasa Melayu
- D Bahasa Inggeris
- 20 Dialog berikut menunjukkan tindakan Tun Abdul Razak.
Pegawai Kerajaan: Apakah cadangan tuan?
Tun Abdul Razak: Terpaksa kita menerima Laporan Barnes dan membenarkan bahasa pengantar vernakular digunakan selama 10 tahun selepas merdeka.

Mengapakah Tun Abdul Razak mengambil tindakan sedemikian?
(130)

- A Melahirkan perpaduan kaum.

- B Menjaga keharmonian politik
- C Mendapat sokongan kaum Cina
- D Memartabatkan bahasa vernakular.

- 21 Soalan 21 berdasarkan rajah di bawah.



Apakah X?
(130)

- A Kemajuan ekonomi
- B Kerjasama kaum
- C Perkembangan pendidikan
- D Kestabilan politik

- 22 Soalan 22 berdasarkan maklumat di bawah.

Dato' Onn Jaafar	Ahli Hal Ehwal Dalam Negeri (1951-1955)
Dato' E.E.C. Thuraisingam	Ahli Pelajaran (1951 – 1955)

Nyatakan persamaan tokoh-tokoh di atas. (131)

- A Anggota Sistem Ahli
- B Anggota rombongan merdeka
- C Mencadangkan Ordinan Pelajaran 1952
- D Memenangi pilihan raya Majlis Bandaran

- 23 Jadual di bawah menunjukkan jawatan yang dipegang oleh anggota Sistem Ahli.

Anggota	Jawatan
Dato' Mahmud Mat	Ahli Tanah, Perlombongan dan Perhubungan (1951-1954)
Dr Lee Tiang Keng	Ahli Kesihatan (1951-1954)
X	Ahli Pertanian dan Perhutanan (1951-1955)

Siapakah tokoh X dalam jadual tersebut?
(131)

- A Dato' Haji Noah
- B Tun Tan Cheng Lock
- C Tun Dr Ismail Abdul Rahman
- D Tunku Yaakob Almarhum Sultan Abdul Hamid Halim Shah

24 Soalan 24 berdasarkan maklumat di bawah.

Diperkenalkan pada tahun 1951
Melatih orang Melayu dan kaum lain
dalam pentadbiran
Idea penubuhannya telah dicetuskan oleh
Dato' Onn Jaafar

Badan tersebut ialah
(131)

- A Dewan Rakyat
- B Konferensi Nasional
- C Sistem Ahli
- D Dewan Negara

25 Soalan 25 berdasarkan rajah di bawah.

- Lima orang penduduk Tanah Melayu
- Empat orang Pegawai British

Ciri-ciri Sistem Ahli ialah ahlinya terdiri daripada Sembilan orang anggota seperti maklumat di atas. Nyatakan agihan daripada lima orang penduduk Tanah Melayu mengikut kaum. (131)

- A Tiga orang Melayu, seorang Cina dan seorang India
- B Tiga orang Cina, seorang Melayu dan seorang India
- C Tiga orang India, seorang Cina dan seorang Melayu
- D Seorang India, dua orang Melayu dan dua orang Cina

26 Pada tahun 1955, seorang wakil UMNO dan seorang wakil MCA telah dilantik menganggotai Sistem Ahli bagi mencerminkan proses perpaduan kaum yang kukuh di Persekutuan Tanah Melayu.
Nyatakan wakil UMNO dan wakil MCA

tersebut? (132)

- A Tun Abdul Razak dan Tun H.S. Lee
- B Tun Dr Ismail Abdul Rahman dan Tun H.S. Lee
- C Tun Abdul Razak dan Dr. Lee Tiang Keng
- D Tun Dr Ismail Abdul Rahman dan Dr. Lee Tiang Keng

27 Rajah menunjukkan langkah british di Tanah Melayu pada tahun 1951.

Melonggarkan syarat kerakyatan kepada golongan

Apakah matlamat kerajaan mengambil langkah tersebut?
(132)

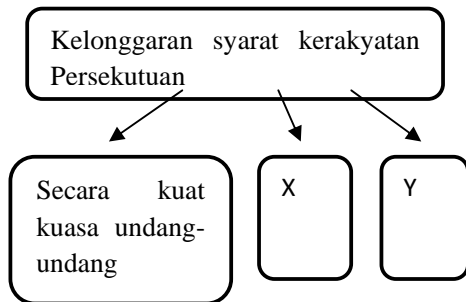
- I Supaya mereka mencurahkan taat setia kepada Persekutuan
- II Untuk mengelakkan golongan imigran daripada terus terpengaruh dengan Parti Komunis Malaya
- III Untuk memperkuatkan pertahanan Persekutuan
- IV Untuk melicinkan pentadbiran

- A I dan II
- B I dan IV
- C II dan III
- D III dan IV

28 Menjelang tahun 1952, bilangan orang Cina dan India yang menjadi warganegara telah meningkat secara mendadak.
Apakah faktor yang menyebabkan keadaan ini? (132)

- A Desakan kerajaan British
- B Kestabilan politik
- C Syarat Kerakyatan dilonggarkan
- D Kemajuan ekonomi

29 Soalan 29 berdasarkan maklumat di bawah.



Di peringkat Persekutuan, syarat kerakyatan dilonggarkan dengan tiga cara. Nyatakan cara X dan cara Y? (132)

- I Secara naturalisasi
- II Secara permohonan
- III Secara temuduga
- IV Secara peperiksaan

- A I dan II
- B I dan IV
- C II dan III
- D III dan IV

30 Soalan 30 berdasarkan maklumat di bawah.

X	Mencapai umur 21 tahun
	Dilahirkan di negeri tersebut
	berkelakuan baik
	mengangkat sumpah setia kepada raja
	Melepaskan kewarganegaraan asal

Syarat di atas merupakan syarat kerakyatan negeri 1951. Syarat kerakyatan tersebut dilonggarkan secara X. Apakah X? (133)

- A Naturalisasi
- B Permohonan
- C Kuat kuasa undang-undang
- D Penghargaan

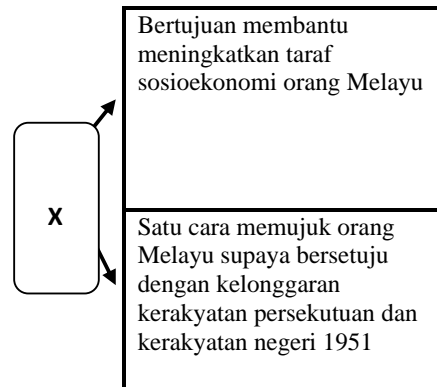
31 Soalan 31 berdasarkan maklumat di bawah.

Seorang bayi telah dilahirkan oleh ibu yang berbangsa Cina pada 1953

Apakah syarat yang membolehkan bayi tersebut mendapat kerakyatan secara kuat kuasa undang-undang mengikut syarat kerakyatan negeri 1951. (133)

- A Telah mencapai umur 21 tahun
- B Berkelakuan baik
- C Mengangkat sumpah taat setia kepada Persekutuan
- D Salah seorang daripada ibu bapanya dilahirkan di Persekutuan Tanah Melayu

32 Soalan 32 berdasarkan maklumat di bawah.



Apakah X dalam rajah di atas? (134)

- A Parti Perikatan
- B Lembaga Pembangunan Industri Desa
- C Sistem Pendidikan Kebangsaan
- D Konsep Raja Berpelembagaan

33 Parti Perikatan telah ditubuhkan hasil gabungan parti-parti berikut. (134)

- UMNO
- MCA
- X

Apakah X?

- A IMP
- B MIC
- C MDU
- D PAS

34 Pembentukan Parti Perikatan akan dapat mewujudkan (134)

- A Kerjasama politik
 B Merundingkan kemerdekaan
 C Mengeluarkan laporan pelajaran
 D Mengadakan pakatan dengan British
- 35 Pihak British meletakkan syarat kerjasama dan perpaduan kaum bagi kemerdekaan Tanah Melayu untuk menjaga kepentingannya iaitu (134)
- A Kepentingan politik British di Tanah Melayu
 B Pengekalan tentera British di Tanah Melayu
 C Kepentingan ekonomi di Persekutuan Tanah Melayu
 D Kelonggaran syarat kerakyatan bagi kaum imigran
- 36 1955 → Pembentukan Parti Perikatan
 1954 → X
 1952 → Pakatan UMNO - MCA
- Garis masa di atas menunjukkan peringkat penubuhan Parti Perikatan. X dalam rajah di atas merujuk kepada (135)
- A Kofereni Nasional
 B Kelonggaran Syarat Kerakyatan
 C Penubuhan Kabinet Bayangan
 D Perikatan UMNO – MCA dibentuk
- 37 Siapakah tokoh penting yang berunding untuk mewujudkan persefahaman antara kaum bagi parti UMNO – MCA? (135)
- I Tun H.S. Lee
 II Tun Tan Cheng Lock
 III Tun Abdul Razak
 IV Dato' Yahya Razak
- A I dan II
 B I dan IV
 C II dan III
 D III dan IV
- 38 Mengapakah pakatan politik Parti Perikatan penting ke arah kerjasama kaum ke arah berkerajaan sendiri? (135)
- I Melahirkan perpaduan kaum
 II Mewujudkan persefahaman antara kaum
 III Memudahkan proses pilihan raya
 IV Meningkatkan pengaruh PKM
- A I dan II
 B I dan IV
 C II dan III
 D III dan IV
- 39 Apakah persamaan Parti Politik berikut? (135)
- UMNO Kuala Lumpur
 - MCA Selangor
- A Menang pilihan raya Bandaran Kuala Lumpur
 B Menentang British secara radikal
 C Memelihara kemerdekaan negara
 D Memperjuangkan kemerdekaan
- 40 Apakah tujuan utama pilihan raya Majlis Bandaran diadakan pada 1951? (136)
- A Melantik Dato' Bandar
 B Melatih penduduk menjaga kebersihan Bandar
 C Mengurangkan pegawai British dalam pentadbiran Bandar
 D Menjalankan tanggung jawab ke arah berkerajaan sendiri
- 41 Parti Radikal yang dianggotai pelbagai kaum telah memenangi kerusi dalam pilihan raya Majlis Bandaran sebanyak (136)
- A 5 daripada 9 kerusi yang dipertandingkan
 B 6 daripada 9 kerusi yang dipertandingkan
 C 7 daripada 9 kerusi yang dipertandingkan
 D 8 daripada 9 kerusi yang dipertandingkan
- 42 Pilihan raya Majlis Bandaran Kali Ke-2 telah diadakan pada 1952 di (136)
- A George Town
 B Ipoh
 C Kuala Lumpur

- 43 Tujuan pilihan raya Majlis Bandaran diadakan di bandar utama ialah (137)
- D Seremban
- A Memilih Perdana Menteri Pertama Tanah Melayu
 B Memilih pemimpin dan kerajaan yang akan menguruskan Negara selepas merdeka
 C Memilih anggota dalam pelaksanaan Sistem Ahli
 D Menentukan kerajaan yang memerintah
- 44 Kesan penting Pilihan Raya Majlis Bandaran diadakan di bandar-bandar besar sebelum merdeka ialah amalan (137)
- A Bekerjasama
 B Cara pemerintahan demokrasi
 C Parti-parti politik tanahair
 D Perpaduan kaum
- 45 Tokoh yang banyak berjasa dalam gerakan kerjasama MCA - UMNO ialah (137)
- A Tun H.S.Lee
 B Dato' Onn Jaafar
 C Dato' EEC Thuraisingam
 D Tun Dr Ismail
- 46 Berapakah kerusi yang dimenangi oleh Perikatan UMNO - MCA dalam pilihan raya negeri yang diadakan pada 1954 (137)
- A 226
 B 284
 C 266
 D 268
- 47 Kemenangan perikatan UMNO-MCA dalam pilihan raya negeri 1954 menunjukkan penerimaan orang ramai terhadap (137)
- A pilihan raya negeri
 B pemimpin
 C kerjasama antara kaum
 D Parti politik

48 Pihak British telah menubuhkan Jawatankuasa Pilihan Raya pada 1954 yang dianggotai oleh (138)

- I Pegawai Melayu
 II Pegawai Kanan British
 III Wakil Parti Politik
 IV Wakil Kerajaan British

- A I dan II
 B I dan IV
 C II dan III
 D III dan IV

49 Jadual di bawah menunjukkan peruntukan jumlah keseluruhan anggota Majlis Perundangan Persekutuan (MPP). (138)

Dipilih melalui pilihan raya	52 kerusi
X	48 orang ahli

Siapakah yang akan melantik 48 orang ahli Majlis Perundangan Persekutuan?

- A Majlis Raja-raja
 B Ratu England
 C Pesuruhjaya Tinggi British
 D Gabenor

50 Berapakah kerusi yang dituntut oleh Parti Perikatan dalam Pilihan Raya Majlis Perundangan Persekutuan? (138)

- A Satu per lima
 B Dua per lima
 C Tiga per lima
 D Empat per lima

51 Siapakah tokoh Parti Perikatan yang menuntut kepada kerajaan British bagi mendapatkan kerusi pilihan raya yang lebih dalam pilihan raya Majlis Perundangan Persekutuan tetapi gagal? (138)

- A Dato' Haji Noah
 B Tun Tan Cheng Lock
 C Tunku Abdul Rahman
 D Tun Abdul Razak

- 52 Apakah yang terkandung dalam manifesto Parti Perikatan bagi Pilihan Raya Majlis Perundangan Persekutuan 1955? (139)
- I Melindungi hak Raja-raja Melayu sebagai Raja Berperlembagaan
 II Mewajibkan pendidikan rendah
 III Mewajibkan pendidikan menengah
 IV Mencapai kemerdekaan dalam tempoh lima tahun
- A I dan II
 B I dan IV
 C II dan III
 D III dan IV
- 53 Parti Perikatan telah mendesak kerajaan British mengadakan pilihan raya umum pada tahun 1955. Mengapakah Parti Perikatan terpaksa berbuat demikian? (139)
- A Mahu menghalang pengaruh PKM yang sedang berkembang
 B Mahu menghapuskan pengaruh IMP
 C Mahu orang Melayu menguasai pentadbiran Tanah Melayu
 D Mencapai kemerdekaan dalam tempoh empat tahun
- 54 Soalan 54 berdasarkan maklumat di bawah.
- Hak mengundi dalam pilihan raya Majlis Perundangan Persekutuan tahun 1955 terbuka kepada kaum lelaki dan wanita
- Apakah syarat untuk mendapat hak di atas? (139)
- A Boleh membaca, menulis dan mengira
 B Kaum bumiputera
 C Kakitangan kerajaan
 D Berumur 21 tahun
- 55 Dalam Pilihan raya Majlis Perundangan Persekutuan pada tahun 1955, Parti Perikatan telah memenangi sebanyak 51 kerusi daripada sejumlah 52 kerusi yang dipertandingkan. Parti yang memenangi satu lagi kerusi ialah (140)
- A Liga Melayu Perak
 B Parti Islam Se-Malaya
 C People's Progressive Party
 D Parti Negara
- 56 Kemenangan Parti Perikatan dalam Pilihan raya tahun 1955 disebabkan beberapa factor penting. Antaranya ialah (140)
- I Parti Perikatan berkempen dengan bersungguh-sungguh
 II Kesepakatan untuk menolak pengaruh PKM
 III Semangat untuk mencapai kemerdekaan yang berkobar-kobar
 IV Calon pemimpin yang sesuai
- A I dan II
 B I dan IV
 C II dan III
 D III dan IV
- 57 Apakah dasar yang diamalkan oleh Parti Perikatan sehingga parti ini dapat diterima oleh penduduk pelbagai kaum dalam pilihan raya tahun 1955 dan pilihan raya seterusnya? (140)
- I Berkeutamaan
 II Sikap tolak ansur
 III Kesepakatan
 IV Politik mengikut kaum
- A I dan II
 B I dan IV
 C II dan III
 D III dan IV
- 58 Kemenangan Parti Perikatan dalam pilihan raya tahun 1955, menunjukkan bahawa dasar yang diamalkan oleh parti ini berjaya iaitu dasar (141)
- I Hormat-menghormati
 II Permuafakatan

III Jujur
IV Keyakinan

- A I dan II
- B I dan IV
- C II dan III
- D III dan IV

59 Apakah faktor kemenangan parti perikatan dalam pilihan raya 1955 (142)

- A Kerjasama antara kaum
- B Peka masalah semasa
- C Kerjasama dengan British
- D Peka masalah golongan imigran

60 Apakah semangat yang perlu diamalkan oleh penduduk negara ini untuk mengekalkan kedamaian di bumi bertuah ini? (142)

- A Sanggup berkorban
- B Jati diri tinggi
- C Semangat sukarela
- D perpaduan

JAWAPAN BAB 4 – TINGKATAN
TIGA

SOA LAN	JAWA PAN	MU KA SU RA T BU KU TE KS	SOA LAN	JAWA PAN	MU KA SU RA T BU KU TE KS
1	A	121	31	D	133
2	C	121	32	B	134
3	C	121	33	B	134
4	C	122	34	A	134
5	D	122	35	C	134
6	D	122	36	D	135
7	B	123	37	C	135
8	B	124	38	A	135
9	A	124	39	A	135
10	D	125	40	D	136
11	D	126	41	B	136
12	A	127	42	C	136
13	A	127	43	B	137
14	A	128	44	B	137
15	C	127- 128	45	A	137
16	A	129	46	A	137
17	B	129	47	C	137
18	D	129	48	C	138

19	C	129	49	C	138
20	B	130	50	C	138
21	B	130	51	C	138
22	A	131	52	A	139
23	D	131	53	D	139
24	C	131	54	D	139
25	A	131	55	B	140
26	A	131	56	C	140
27	A	132	57	C	140
28	C	132	58	A	141
29	A	132	59	A	142
30	B	133	60	D	142