

**BAB 3:
DARURAT & ANCAMAN PARTI KOMUNIS MELAYA
(PKM)**

1 Pernyataan berikut berkaitan dengan fahaman komunisme(87)

.Diasaskan oleh Karl Marx pada pertengahan abad ke 19.

Golongan manakah yang ditentang oleh fahaman tersebut?

- I Imperialis
- II Kaum tani
- III Pekerja-pekerja kilang
- IV Golongan bangsawan

- A I dan II
- B I dan IV
- C II dan III
- D III dan IV

2 Maklumat di bawah merujuk kepada fahaman komunisme.(87)

.Menentang golongan feodal dan imperialis secara kekerasan

Apakah yang diperjuangkan oleh fahaman di atas?

- A Sistem beraja
- B Perdagangan bebas
- C Pengawalan ekonomi
- D Masyarakat tanpa kelas

3 Buku-buku berikut telah dihasilkan oleh Karl Marx pada pertengahan abad ke 19.(87)

**.Das Kapital
.The Communist Manifesto
.The German Ideology**

Apakah tujuan karya di atas dihasilkan?

- A Penyebaran ideologi
- B Pemantapan sistem politik
- C Peningkatan ilmu pengetahuan
- D Penguatkuasaan undang-undang

4 Senarai berikut merupakan Negara yang menganut fahaman komunisme(87)

**Rusia
China**

Apakah yang diperjuangkan oleh Negara di atas?

- I Perdagangan bebas
- II Masyarakat tanpa kelas
- III Memiliknegerakan tanah dan perindustrian
- IV Menyokong golongan bangsawan

- A I dan II
- B I dan IV
- C II dan III
- D III dan IV

5 Dialog berikut mungkin berlaku dalam kalangan anggota Parti Komunis ,diucap pada Julai 1919.(87)

**Anggota I : Pertubuhan komunis antarabangsa telah mengeluarkan arahan kepada semua parti komunis di Eropah.
Anggota II: Kami sedia melaksanakan arahan.**

Apakah arahan yang dimaksudkan?

- A Menentang imperialis barat
- B Mewujudkan masyarakat berkelas
- C Memiliknegerakan perdagangan
- D Menyebarkan ideology komunis ke seluruh dunia

6 Maklumat di bawah merujuk kepada penyebaran dakyah komunis di Tanah Melayu.(87)

Sasaran Dakyah Komunis	
Kaum	Reaksi
Cina Melayu	Mendapat sambutan Tidak mendapat sambutan

Mengapakah orang Melayu tidak tertarik dengan dakyah-dakyah tersebut?

- I Komunis menggunakan kekerasan
- II Bertentangan dengan orang Islam
- III Komunis sering membuat helah
- IV Tidak mendapat sebarang keistimewaaan

- A I dan II
- B I dan IV
- C II dan III
- D III dan IV

7 Senarai di bawah menunjukkan dua buah parti komunis.(87)

Parti Kaomintang
Parti Komunis Nanyang

Apakah persamaan parti di atas?

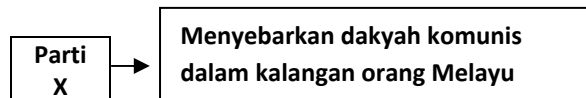
- A Membentuk Republik Komunis
- B Membantu British menentang Jepun
- C Menyebarkan ideologi di Tanah Melayu
- D Mengarahkan penyebaran ideology ke seluruh dunia

8 Ideologi komunis disebarkan dalam kalangan orang cina di Tanah Melayu melalui(87)

- I Kesatuan Sekerja
- II Bahan-bahan penerbitan
- III Parti Komunis Indonesia
- IV Golongan bangsawan

- A I dan II
- B I dan IV
- C II dan III
- D III dan IV

9 Maklumat berikut merujuk kepada peranan Parti X(87)



Apakah parti X?

- A Parti Koumintang
- B Parti Komunis Malaya
- C Parti Komunis Nanyang
- D Parti Komunis Indonesia

10 Mengapakah parti di bawah ditubuhkan pada tahun 1930(88)

Parti Komunis Malaya

- A Memajukan ekonomi Tanah Melayu
- B Membentuk Republik Komunis Malaya
- C Melatih orang Melayu dalam ketenteraan
- D Menyatupadukan pelbagai kaum di Tanah Melayu

11

Tahun :1935
Tempat :Batu Arang,Selangor
Peristiwa:6000 orang buruh melancarkan mogok di lombong Arang Batu

Apakah kesan pemogokan di tersebut?(88)

- I Pemimpin PKM ditahan
- II PKM dibubarkan
- III Pemindahan orang Cina ke Kampung Baru
- IV Pemimpin mogok dihantar ke China

- A I dan II
- B I dan IV
- C II dan III
- D III dan IV

12 Tindakan di bawah dilakukan oleh PKM peringkat awal di Tanah Melayu (88)

-Sabotaj
-Mogok
-Tunjuk perasaan

Mengapakah tindakan tersebut diambil?

- A Memecahbelahkan perpaduan kaum
- B Melumpuhkan ekonomi Tanah Melayu
- C Menghalau British keluar dari Tanah Melayu
- D Melumpuhkan pertahanan British di Tanah Melayu

13 Berikut,manakah menggambarkan kerjasama antara PKM dengan British?(89)

- A British menggalakkan orang Melayu dan Cina menyertai PKM
- B Cawangan PKM dibenarkan ditubuhkan di seluruh Tanah Melayu
- C MPAJA menerima bantuan kewangan daripada British
- D Penubuhan Sekolah Latihan Khas 101

14 Maklumat di bawah berkaitan sebuah sekolah.(89)

Sekolah Latihan Khas 101

Apakah ciri-ciri berkaitan sekolah tersebut?

- I Ditubuhkan di Pulau Pinang
- II Menjadi markas pasukan gerila menentang Jepun
- III Melatih anggota PKM taktik Perang gerila
- IV Ditubuhkan oleh Jepun untuk mengumpul sukarelawan

- A I dan II
- B I dan IV
- C II dan III
- D III dan IV

15 Senarai di bawah merujuk kepada pertubuhan di Tanah Melayu.(89)

.MPAJA .Force 136

Apakah persamaan kedua-duanya?

- A Menyebarkan fahaman komunisme
- B Membantu Republik Komunis
- C Menentang Jepun
- D Menyebarkan propaganda Jepun

16 Pernyataan berikut menunjukkan bantuan British kepada PKM.(89)

.Pihak British membekalkan senjata kepada MPAJA
--

Senjata dibekalkan melalui

- A Force 136
- B Min Yuen
- C Gerila Kinabalu
- D Pasukan Wataniah

17 Jadual di bawah merujuk kekalahan tentera Jepun(89)

Tarikh	Peristiwa
15 Ogos 1945	Jepun menyerah kalah tanpa syarat kepada pihak Bersekutu

Apakah kesan peristiwa tersebut kepada PKM?

- I Diarahkan membubarkan MPAJA
- II Diminta menyerahkan semula senjata
- III Meneruskan pemberontakan
- IV Membentuk Republik Komunis

- A I dan II
- B II dan IV
- C II dan III
- D III dan IV

18 Setiap anggota MPAJA dibayar sebanyak \$350 dan menerima satu beg beras daripada pihak British.(89)

Apakah tujuan tawaran tersebut dibuat?

- A Menamatkan keganasan
- B Memujuk MPAJA menyerahkan senjata
- C Menaikkan semangat penduduk tempatan
- D Membubarkan MPAJA

Soalan 19 dan 20 berdasarkan maklumat berikut:

Tahun	Peristiwa
1948	Persidangan Pemuda Komunis Asia di Culcutta,India

19 Apakah ketetapan yang diputuskan dalam persidangan tersebut?(90)

- A Penyebaran ideology komunis ke seluruh dunia
- B Golongan muda mengetuai Parti Komunis
- C Perubahan taktik perjuangan
- D Mengadakan rundingan dengan pihak kerajaan

20 Apakah kesan daripada persidangan di atas?(90)

- A Penubuhan MRLA
- B Pembentukan MPAJA
- C Pengenalan Home Guard
- D Pelaksanaan perintah berkurung

21 Pernyataan di bawah merujuk kepada unit gerila PKM.(90)

Malayan Races Liberation Army

Bagaimanakah pertubuhan tersebut menentang British?

- A Melancarkan pemberontakan bersenjata
- B Mengajukan pemogokan
- C Melalui gerakan dakwah
- D Mengajukan kongres

22 Senarai di bawah berkaitan tindakan ganas PKM(90)

.Merosakkan landasan keretapi .Memusnahkan ladang-ladang dan lombong Membakar kilang

Mengapakah mereka bertindak demikian?

- I Merenggangkan hubungan antara kaum
- II Mengambil alih asset pemodal Eropah
- III Melumpuhkan ekonomi
- IV Memutuskan system perhubungan

- A I dan II
- B I dan IV
- C II dan III
- DI III dan IV

23 Pernyataan berikut berkaitan tindakan PKM di Tanah Melayu.

Tarikh	Peristiwa
Jun 1948	Tiga orang pengurus ladang berbangsa Eropah telah di bunuh di Sungai Siput

Apakah kesan peristiwa di atas?

- A. Pengharaman PKM.
- B. Perisytiharan darurat.
- C. Pelancaran Rancangan Briggs.
- D. Mengukuhkan pasukan keselamatan.

m/s 91

24 Apakah muslihat British mengisytiharkan undang-undang berikut pada tahun 1948?

Undang-Undang Darurat

- A. Menyekat kebebasan rakyat.
- B. Mewujudkan perpaduan kaum.
- C. Melindungi kepentingan ekonomi.
- D. Melengah-lengahkan kemerdekaan.

m/s 91

25 Apakah kesan pengisytiharan undang-undang darurat kepada Parti Komunis Malaya?

- A. PKM telah di haramkan.
- B. Mula bekerjasama dengan British.
- C. Kedudukannya semakin kukuh.
- D. Mendapat sokongan orang Melayu.

m/s 91

26 Senarai di bawah merupakan parti politik di Tanah Melayu.

- AWAS
- PETA
- PERAM
- PKMM

Apakah persamaan parti tersebut?

- A. Berhaluan kiri.
- B. Berhaluan kanan.
- C. Bersifat sederhana.
- D. Bekerjasama dengan British.

m/s 91

27 Senarai di bawah merujuk langkah kerajaan untuk membanteras ancaman komunis di Tanah Melayu.

- Memperbesar pasukan polis dan tentera.
- Membawa masuk askar dari Negara Komanwel.

Negara manakah yang terlibat dalam langkah tersebut?

- I. Belanda.
- II. Sepanyol.
- III. Australia.
- IV. New Zealand.

- A. I dan II
- B. I dan IV
- C. II dan III
- D. III dan IV

m/s 92

28 Maklumat berikut berkaitan tindakan British pada pertengahan abad ke 20.

Membawa masuk askar ke Tanah Melayu dari Negara komanwel

Apakah tujuan British bertindak demikian?

- A. Melatih anggota tentera.
- B. Menyekat kemasukan imigren.
- C. Membanteras ancaman komunis.
- D. Mengawal penentangan penduduk.

29

X →

- Ditubuhkan di peringkat kampung.
- Membantu pasukan polis dan tentera menjaga keselamatan.
- Terdiri daripada kaum lelaki dan wanita

X ialah (ms93)

- A. Askar Melayu.
- B. Home Guard.
- C. Askar Wataniah.
- D. Special Constable.

30 Maklumat di bawah berkaitan tindakan pasukan keselamatan di Tanah Melayu.

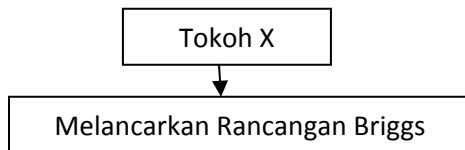
Mengebom dan melakukan serangan hendap ke atas kawasan yang menjadi ancaman komunis

Untuk menjayakan misi tersebut, pasukan di atas mendapat bantuan daripada

- A. Home Guard.
- B. Askar Melayu.
- C. Special Constable.
- D. Tentera Udara British.

m/s 94

31.

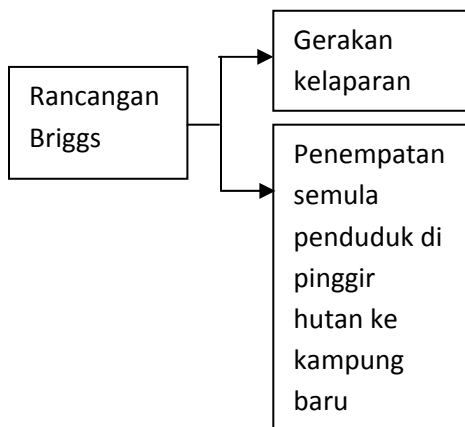


Siapakah X?

- A. Sir Henry Gurney.
- B. Sir Gerald Templar.
- C. Tunku Abdul Rahman.
- D. Sir Harold Rowdon Briggs.

m/s 94

32 Rajah menunjukkan program di bawah Rancangan Briggs tahun 1950 m/s 94



Apakah tujuan rancangan di atas dilancarkan?

- A. Melumpuhkan gerakan Min Yuen.
- B. Mengatur strategi menentang Jepun.
- C. Menyekat kemasukan imigaren.
- D. Mengawal penentangan rakyat.

33. Maklumat di bawah berkaitan keadaan penduduk di Tanah Melayu semasa darurat.

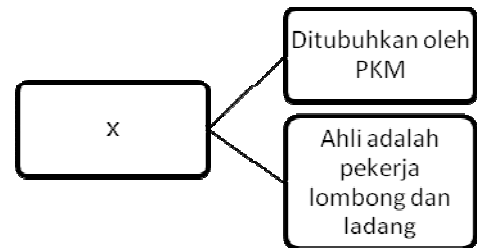
1948-1949	Penduduk yang tinggal di pinggir hutan selalu dikunjungi oleh ahli PKM untuk memujuk mereka menyertai Min Yuen. Mereka berada dalam keadaan ketakutan
-----------	---

Apakah tindakan kerajaan bagi menangani masalah di atas?

- A. Membekalkan senjata.
- B. Menempatkan di kem pertahanan.
- C. Memindahkan ke petempatan baru.
- D. Mengisytiharkan perintah berkurung.

m/s 94

34. Apakah peranan x dalam rajah di bawah?



- A. Melatih ahli baru.
- B. Menanamkan kesetiaan.
- C. Memberi maklumat.
- D. Menyebarkan dakyah komunis.

m/s 94

35. Pernyataan berikut merujuk tindakan yang dilancarkan di bawah Rancangan Briggs

Semua penduduk di kawasan pinggir hutan di pindahkan ke kampung baru

Apakah tujuan pelaksanaannya?

- A. Menjaga kebajikan penduduk.
- B. Menyediakan peluang pekerjaan.
- C. Melumpuhkan geraka Min Yuen.
- D. Meningkatkan pengeluaran hasil pertanian.

m/s 94

36 Maklumat di bawah berkaitan kampung baru di bawah Rancangan Briggs.

- Dilengkapi dengan kemudahan asas seperti sekolah, kemudahan kesihatan, bekalan elektrik dan air paip.
- Dipagari dengan kawat berduri.

Pihak yang dipertanggungjawabkan menjaga keselamatan kampung di atas ialah.

- A. Home Guard.
- B. Special Constables.
- C. Pasukan rukun tetangga.
- D. Pasukan polis dan tentera.

m/s 95

37 Apakah sumbangan tokoh berikut:

Sir Harold Rowdon Briggs

- I. Menempatkan setingan Cina ke kampung baru.
 - II. Melumpuhkan Min Yuen.
 - III. Melonggarkan syarat kerakyatan.
 - IV. Melaksanakan Kempen Bulan Penduduk Tanah Melayu Menentang Komunis.
- A. I dan II
 - B. I dan IV
 - C. II dan III
 - D. III dan IV

m/s 95

38 Parti berikut telah disokong penubuhannya oleh British

MCA

Apakah sumbangan parti tersebut semasa darurat?

- A. Membina sekolah Cina.
- B. Menjalankan kutipan derma.
- C. Menjalankan catuan makanan.
- D. Membekalkan ubat-ubatan.

m/s 96

39 Penyataan berikut merujuk system pendaftaran kebangsaan pada tahun 1950-an.

Setiap penduduk berumur 12 tahun dan lebih mesti didaftarkan dan diberi kad pengenalan

Apakah tujuan pengenalannya?

- I. Melicinkan proses pilihan raya.
- II. Mengenal pasti golongan imigren.
- III. Mengawal pergerakan penduduk.
- IV. Membezakan penduduk dengan penganas

- A. I dan II
- B. I dan IV
- C. II dan III
- D. III dan IV

m/s 97

40 Maklumat berikut merujuk kepada usaha British

Melonggarkan syarat kewarganegaraan pada tahun 1952

Apakah tujuan British tersebut?

- I. Menjayakan usaha Perang Saraf.
 - II Mendapat sokongan orang Cina.
 - III. Melicinkan proses pilihan raya.
 - IV. Menjalankan bancian penduduk.
- A. I dan II
 - B. I dan IV
 - C. II dan III
 - D. III dan IV

m/s 100

41 Kerajaan British telah memperkenalkan sistem berikut untuk membanteras ancaman komunis.

Apakah langkah British untuk menjayakan sistem tersebut? m/s 97

- A. Menguatkuasakan penggunaan kad pengenalan.
- B. Memastikan penduduk melapor diri dib alai polis.
- C. Memastikan penduduk mendaftar sebagai anggota polis yang sah.

42 Monolog berikut mungkin diperkatakan oleh Sir Gerald Templer.

“Penggunaan senjata dan kekerasan semata-mata tidak akan berjaya menghapuskan pengaruh komunis. Oleh itu perlu ubah strategi untuk atasinya”

Apakah strategi baru yang dimaksudkan?

- A. Rundingan dengan pihak komunis.
- B. Pengampunan beramai-ramai.
- C. Melalui penubuhan kampung baru berbilang kaum.
- D. Pelaksanaan Perang Saraf.

43 Apakah alasan Tunku Abdul Rahman untuk menolak PKM sebagai sebuah parti yang sah? (107)

- A. Rakyat menolak.
- B. Berfahaman Atheis.
- C. Tidak mengiktiraf raja.
- D. Tidak sesuai dengan masyarakat berbilang kaum.

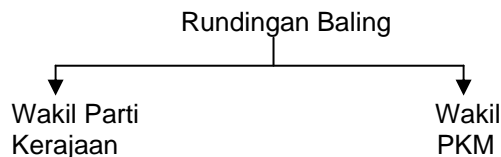
44 Pernyataan di bawah merujuk kepada kos perbelanjaan kerajaan bagi membanteras ancaman komunis di Negara kita. (110)

Kerajaan telah membelanjakan RM 721.9 juta untuk mengukuhkan sistem pertahanan sepanjang zaman darurat.

Apakah kesan daripada keadaan tersebut?

- A. Negara mencapai kemerdekaan.
- B. Pembangunan luar bandar terbantut.
- C. Kuasa asing mengancam Negara.
- D. Perpaduan antara kaum tidak tercapai.

45



Berdasarkan rajah di atas, siapakah yang mewakili pihak Parti Perikatan dalam rundingan tersebut. (104)

- I David Marshall
- II Rashid Maidin
- III Sir Gerald Templer
- IV Tan Cheng Lock

- A. I dan II
- B. II dan III
- C. III dan IV
- D. I dan IV

46 Rundingan Baling diadakan pada 28 dan 29 Disember di Baling, Kedah antara pihak kerajaan dengan PKM. Mengapakah rundingan tersebut gagal? (107)

- A. PKM menolak gencatan senjata.
- B. Kerajaan enggan membayar ganti rugi.
- C. Chin Peng dan pengikutnya enggan menyerah diri.
- D. Kerajaan tidak mengiktiraf PKM.

47 Saya tetap menolak tawaran pengampunan yang diberikan oleh kerajaan Tanah Melayu,
Chin Peng

Kata-kata Chin Peng diungkap semasa

- A. Pertemuan Komanwel.
- B. Pertemuan Baling.
- C. Penubuhan PKM.
- D. Pembentukan Persekutuan Tanah Melayu

48 28 dan 29 Disember 1955

Mengapakah tarikh di atas penting dalam sejarah Tanah Melayu? (104)

- A. PKM menyerah diri kepada kerajaan.
- B. Berlaku rundingan Baling.
- C. Undang-undang darurat ditamatkan.
- D. Kawasan hitam diistiharkan.

49 Tanah Melayu mencapai kemerdekaan pada tahun 1957. Apakah kesannya terhadap PKM?

- A. PKM semakin ganas.
- B. PKM semakin lemah.
- C. PKM meminta perdamaian dengan kerajaan.
- D. PKM melancarkan operasi ketenteraannya di hutan.

50 Mengapakah rundingan Baling menemui jalan buntu? (105)

- I PKM menolak tawaran pengampunan.
 - II PKM mempunyai perasaan perkauman.
 - III Kerajaan enggan membayar tuntutan ganti rugi.
 - IV Kerajaan enggan mengiktiraf PKM.
- A. I dan II
 - B. I dan IV
 - C. II dan III
 - D. III dan IV

51 Apakah tujuan pembinaan tugu di bawah. (111)

Tugu Peringatan Negara

- A. Lambang budaya negara.
- B. Mercu tanda kebanggaan Negara
- C. Memperingati pengorbanan perajurit.
- D. Menunjukkan kekuatan ketenteraan.

52 Antara berikut yang manakah bersesuaian dengan kesan-kesan darurat? (112)

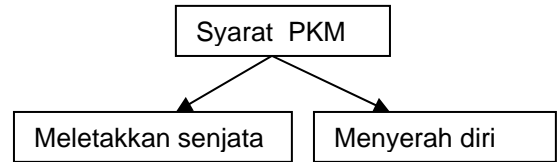
- I Rakyat hidup sensara.
- II Pembangunan ekonomi terbantut.
- III Tiada kerjasama antara rakyat dan kerajaan.
- IV Undang-undang menjadi semakin longgar.

- A. I dan II
- B. II dan III
- C. III dan IV
- D. I dan IV

53 Apakah kesan darurat dalam bidang ekonomi? (110)

- A. Kerajaan menggalakkan gerakan kebangsaan berhaluan kanan.
- B. Kerajaan mengharamkan gerakan kebangsaan berhaluan kiri.
- C. Kerajaan kurang munumpukan pembangunan di perkampungan baru.
- D. Kerajaan kurang memberi tumpuan untuk membangunkan kawasan luar Bandar.

54 Maklumat berikut berkaitan dengan Rundingan Baling.



Penyataan di atas merupakan janji-janji PKM pada pihak British. Sebagai balasannya British hendaklah (107)

- A. Membebaskan penganas komunis yang ditangkap.
- B. Mengakui PKM sebagai sebuah parti politik yang sah.
- C. Mengadakan rundingan perdamaian.
- D. membenarkan ahli PKM menjadi warganegara Tanah Melayu.

55 Berikut, yang manakah merupakan kesan darurat dari segi politik.(108)

- I Melonggarkan syarat kerakyatan kepada bukan Melayu.
- II Mempercepatkan langkah darurat.
- III Mempercepatkan proses kemerdekaan.
- IV Kemusnahan sistem perhubungan.

- A. I dan II
- B. I dan IV
- C. II dan III
- D. III dan IV

56 Maklumat berikut merupakan tindakan kerajaan semasa darurat:

- 40 juta risalah
- 12 juta pas
- Poster ditampal

Senarai di atas ada kaitan dengan peristiwa

- A. Perintah berkurung.
- B. Kempen perang saraf.
- C. Program pengampunan komunis.
- D. Kegiatan Min Yuen.

57 Pada pendapat anda, bagaimanakah darurat menguntungkan Tanah Melayu? (109)

- A. Mempercepat langkah berkerajaan sendiri.
- B. Pasukan bersenjata Negara bertambah.
- C. Meningkatkan semangat perkauman.
- D. Rakyat mudah bergerak

- 58 Maklumat di bawah merupakan kesan-kesan darurat:
- Kemusnahan perhubungan, lombong
 - Ramai anggota keselamatan, penganas komunis dan orang awam terkorban.

Apakah iktibar yang boleh diambil daripada peristiwa di atas. (110-111)

- A. Kehidupan perlu diteruskan.
- B. Kepentingan kerjasama kerajaan dan rakyat.
- C. Kesengsaraan memantapkan kehidupan.
- D. Sentiasa berusaha capai kemajuan.

- 59
- Zaman pendudukan Jepun (1941-1945)
 - Zaman Darurat (1948-1960)

Apakah persamaan kedua-dua zaman tersebut? (111)

- A. Rakyat hidup secara berasingan.
- B. Rakyat hidup bersatu padu.
- C. Rakyat hidup dalam kepayahan.
- D. Rakyat dilindungi kuasa luar.

- 60
- | |
|---|
| Tempoh darurat memberi kesan penting kepada masalah hubungan antara kaum di Tanah Melayu. |
|---|

Apakah langkah yang diambil untuk mengatasi masalah tersebut? (112)

- A. Melonggarkan syarat kerakyatan.
- B. Melaksanakan Rancangan Briggs.
- C. Menubuhkan Parti Perikatan.
- D. Menubuhkan Jawatankuasa Antara Kaum.

- 61 Apakah kesan darurat dalam bidang sosial? (108-112)

- A. Banyak perkampungan baru dimusnahkan.
- B. Penduduk luar Bandar gagal menjalankan aktiviti harian.
- C. Penduduk mudah bergerak dan memperoleh makanan
- D. Banyak penduduk menyertai Parti Komunis Malaya (PKM).

JAWAPAN		
NO	JAWAPAN	M/S
1	B	
2	D	
3	A	
4	C	
5	D	
6	B	
7	C	
8	A	
8	A	
9	D	
10	B	
11	B	
12	B	
13	D	
14	C	
15	D	
16	A	
17	A	
18	B	
19	D	
20	A	
21	A	
22	D	
23	B	
24	C	
25	A	
26	A	
27	D	
28	C	
29	B	
30	D	
31	A	
32	A	
33	C	
34	B	
35	C	
36	B	
37	A	
38	B	
39	D	
40	A	
41	A	
42	C	
43	D	
44	B	
45	D	
46	D	
47	B	
48	B	

49	C	
50	B	
51	C	
52	A	
53	D	
54	A	
55	D	
56	C	
57	B	
58	A	
59	C	
60	C	
61	C	
62	C	
63	C	
64	A	
65	B	
66	C	
67	D	
68	A	
69	B	
70	A	

